

Bol Bol Oku, Ezberle. (x → çarpı, kere, tane, defa)

| | | |
|-------------|-------------|-------------|
| 1 X 1 = 1 | 1 X 2 = 2 | 1 X 3 = 3 |
| 2 X 1 = 2 | 2 X 2 = 4 | 2 X 3 = 6 |
| 3 X 1 = 3 | 3 X 2 = 6 | 3 X 3 = 9 |
| 4 X 1 = 4 | 4 X 2 = 8 | 4 X 3 = 12 |
| 5 X 1 = 5 | 5 X 2 = 10 | 5 X 3 = 15 |
| 6 X 1 = 6 | 6 X 2 = 12 | 6 X 3 = 18 |
| 7 X 1 = 7 | 7 X 2 = 14 | 7 X 3 = 21 |
| 8 X 1 = 8 | 8 X 2 = 16 | 8 X 3 = 24 |
| 9 X 1 = 9 | 9 X 2 = 18 | 9 X 3 = 27 |
| 10 X 1 = 10 | 10 X 2 = 20 | 10 X 3 = 30 |

| | |
|-------------|-------------|
| 1 X 4 = 4 | 1 X 5 = 5 |
| 2 X 4 = 8 | 2 X 5 = 10 |
| 3 X 4 = 12 | 3 X 5 = 15 |
| 4 X 4 = 16 | 4 X 5 = 20 |
| 5 X 4 = 20 | 5 X 5 = 25 |
| 6 X 4 = 24 | 6 X 5 = 30 |
| 7 X 4 = 28 | 7 X 5 = 35 |
| 8 X 4 = 32 | 8 X 5 = 40 |
| 9 X 4 = 36 | 9 X 5 = 45 |
| 10 X 4 = 40 | 10 X 5 = 50 |

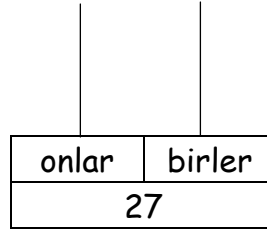
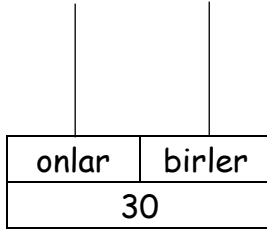
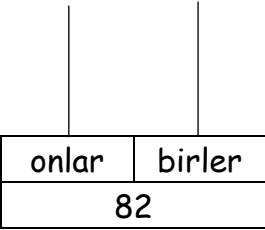
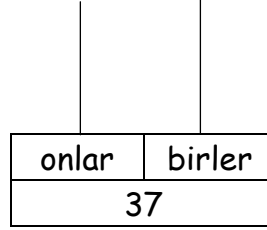
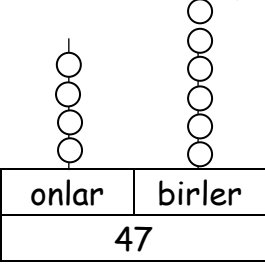
2. SINIFLAR YARI YIL TATIL KİTABI

ADI - SOYADI :

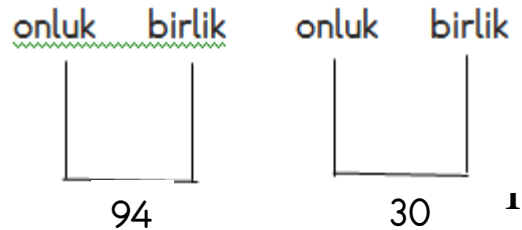
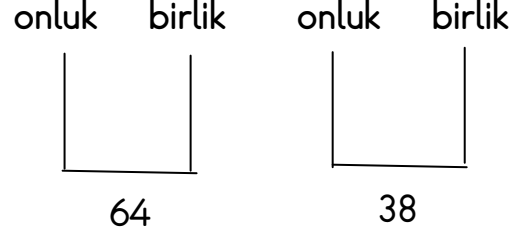
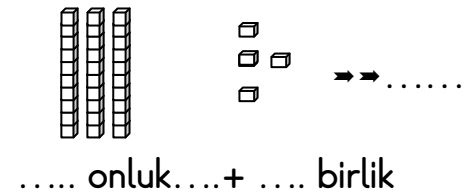
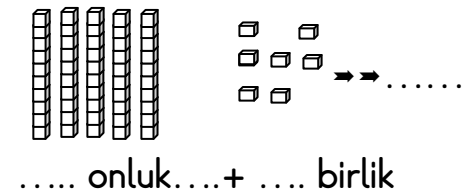
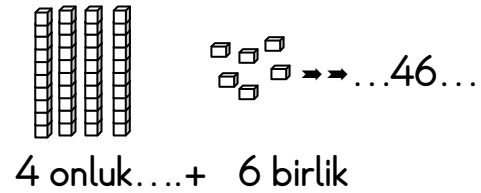


MATEMATİK

1. Verilen sayılara göre basamaklara yuvarlak çiziniz.



2. Aşağıdaki işlemleri örnekteki gibi yapalım.



33. Aşağıdaki taşıtlardan hangisi hayvan gücü ile hareket eder?

A) taksi

B) vapur

C) fayton

34. Uzay araçlarını kullanan kişiye ne denir?

A) astronot

B) kaptan

C) pilot

BULMACA ÇÖZELİM

| | | | | | | | | | | | | | |
|---|---|---|---|---|---|---|---|---|---|---|---|---|---|
| O | D | O | L | U | N | A | Y | Z | Ü | D | N | Ü | G |
| K | Z | M | E | V | S | İ | M | K | L | M | İ | T | D |
| Y | A | P | Z | K | M | O | Z | K | T | D | L | Ü | U |
| A | G | E | C | E | Ğ | E | İ | I | Ş | I | K | V | N |
| N | S | N | D | G | Ö | N | C | Y | M | S | B | Ö | Y |
| U | O | D | Ö | T | L | Ş | Ü | N | A | Ğ | A | P | A |
| S | Ü | E | B | G | R | P | L | A | L | İ | H | Y | R |
| Z | P | N | U | Y | A | Ğ | M | U | R | K | A | H | A |
| C | U | İ | L | A | T | K | N | G | L | V | R | V | H |
| A | S | Z | V | Z | İ | G | Ö | K | Y | Ü | Z | Ü | A |
| A | R | L | T | Ö | R | Y | E | R | Y | Ü | Z | Ü | B |
| Y | A | N | A | K | A | R | A | Ü | K | Z | P | M | N |
| A | K | İ | U | Ö | H | Z | Y | L | M | K | P | Ğ | O |
| K | A | R | A | T | E | Ş | Ğ | C | A | N | L | I | S |

Okyanus

Deniz

Gündüz

Mevsim

Gece

Ay

Kara

Hilal

Sonbahar

Göl

Kış

Ankara

Yaz

İlkbahar

Dünya

Bulut

Kaya

Canlı

Gökyüzü

Harita

Dolunay

Akarsu

Yeryüzü

Gün

İyık

Ateş

Yağmur

24. Aşağıdakilerden hangisi okulun bölümlerindendir?

- A) Kirtasiye B) Sınıf C) Mutfak

25. Okulun yönetimi görevi aşağıdakilerden hangisininindir?

- A) Öğretmen B) Hizmetli C) Okul Müdürü

26. Aşağıdakilerden hangisi okul çalışanlarından biri değildir?

- A) Polis B) Hizmetli C) Memur

27. Aşağıdakilerden hangisi kişisel eşyalarımızdandır?

- A) Sıra B) Yazı tahtası C) Defter

28. Aşağıdakilerden hangisi hava taşıtı değildir?

- A) uçak B) helikopter C) gemi

29. Aşağıdakilerden hangisi okulda uymamız gereken kurallardan değildir?

- A) Sınıfımızı temiz tutmalıyız.
B) Kahvaltımızı mutlaka yapmalıyız.
C) Derslere girişlerde geç kalmamalıyız.

30. Trenlerin yük ve yolcu aldıkları yere ne denir?

- A) liman B) gar C) iskele

31. Otomobil kullanan kişiye ne denir?

- A) şoför B) kaptan C) makinist

32. Aşağıdakilerden hangisi kara yolu taşıtı değildir?

- A) otobüs B) vapur C) motosiklet

3. Onlukları ve birlikleri verilen sayıları yazalım

$$4 \text{ onluk} + 6 \text{ birlik} = 46$$

$$3 \text{ onluk} + 7 \text{ birlik} = \dots\dots$$

$$5 \text{ onluk} + 6 \text{ birlik} = \dots\dots$$

$$5 \text{ onluk} + 4 \text{ birlik} = \dots$$

$$7 \text{ onluk} + 8 \text{ birlik} = \dots\dots$$

$$0 \text{ onluk} + 7 \text{ birlik} = \dots\dots$$

$$6 \text{ onluk} + 0 \text{ birlik} = \dots\dots$$

$$8 \text{ onluk} + 1 \text{ birlik} = \dots$$

4. Verilen sayıların onluklarını ve birliklerini yazınız

$$96 = 9 \text{ onluk} + 6 \text{ birlik}$$

$$84 = \dots, \text{onluk} + \dots, \text{birlik}$$

$$63 = \dots, \text{onluk} + \dots, \text{birlik}$$

$$32 = \dots, \text{onluk} + \dots, \text{birlik}$$

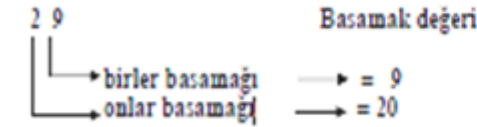
$$27 = \dots, \text{onluk} + \dots, \text{birlik}$$

$$20 = \dots, \text{onluk} + \dots, \text{birlik}$$

$$61 = \dots, \text{onluk} + \dots, \text{birlik}$$

$$13 = \dots, \text{onluk} + \dots, \text{birlik}$$

5. Aşağıdaki sayıların basamak değerlerini örnekte yapıldığı gibi yazınız.



6. Aşağıdaki doğal sayılardan büyük olanı işaretleyiniz.

| | | | | | | | |
|----|----|----|----|----|----|----|----|
| 12 | 20 | 85 | 66 | 32 | 45 | 29 | 77 |
| 9 | 7 | 21 | 23 | 73 | 58 | 35 | 38 |
| 44 | 50 | 60 | 51 | 88 | 90 | 9 | 7 |

7. Aşağıdaki sayı çiftlerinden küçük olanı işaretleyiniz.

| | | | |
|------------|-------|-------|-------|
| <u>2</u> 7 | 11 10 | 25 30 | 48 39 |
| 70 69 | 8 1 | 45 57 | 87 54 |
| 88 90 | 16 17 | 12 87 | 34 37 |

8. Aşağıdaki doğal sayıları büyükten küçüğe doğru sıralayınız.

6, 3, 8 → **8 > 6 > 3**.. 50, 63, 59 →
 14, 18, 9 → 61, 79, 82 →
 62, 83, 78 → 98, 63, 79 →
 67, 21, 29, 54 → 42, 57, 36, 53 →
 23, 28, 19, 25 → 36, 54, 28, 47 →

9. Aşağıdaki doğal sayıları küçükten büyüğe doğru sıralayınız.

12, 20, 17 → **12 < 17 < 20** 64, 49, 76 →
 81, 80, 79 → 8, 12, 10, 9 →
 42, 39, 25 → 25, 23, 49 →
 57, 53, 49, 50 → 82, 53, 76 →

10. Aşağıdaki toplama işlemlerinde verilmeyenleri bulalım.

| | | | | |
|--|--|--|--|--|
| $\begin{array}{r} 65 \\ + 21 \\ \hline \square \square \end{array}$ | $\begin{array}{r} 64 \\ + \square \square \\ \hline 96 \end{array}$ | $\begin{array}{r} 67 \\ + \square \square \\ \hline 89 \end{array}$ | $\begin{array}{r} 67 \\ + \square \square \\ \hline 87 \end{array}$ | $\begin{array}{r} \square \square \\ + 53 \\ \hline 79 \end{array}$ |
| $\begin{array}{r} 67 \\ + \square \square \\ \hline 78 \end{array}$ | $\begin{array}{r} \square \square \\ + 10 \\ \hline 77 \end{array}$ | $\begin{array}{r} 63 \\ + 14 \\ \hline \square \square \end{array}$ | $\begin{array}{r} \square \square \\ + 11 \\ \hline 99 \end{array}$ | $\begin{array}{r} \square \square \\ + 41 \\ \hline 79 \end{array}$ |
| $\begin{array}{r} \square 2 \\ + 15 \\ \hline 7 \square \end{array}$ | $\begin{array}{r} 2 \square \\ + 11 \\ \hline \square 6 \end{array}$ | $\begin{array}{r} \square 6 \\ + 32 \\ \hline 7 \square \end{array}$ | $\begin{array}{r} \square 1 \\ + 21 \\ \hline 9 \square \end{array}$ | $\begin{array}{r} 1 \square \\ + \square 6 \\ \hline 79 \end{array}$ |

15. "Derimizin en ince olduğu yer....." tümcesi nasıl tamamlanır ?

A) topuklarımızdır.

B) avuçlarımızdır

C) göz kapaklarımızdır.

16. " Hastalıkları önlemek için.....yapılır ." tümcesini hangisi tamamlar?

A) Yemek

B) Aşı

C) Yürüyüş

17. Karşıya geçmek için hangi ışığın yanmasını beklemeliyiz?

A) Sarı

B) Yeşil

C) Kırmızı

18. Aşağıdakilerden hangisi temel ihtiyaçlarımızdan biridir?

A) gezmek

B) beslenmek

C) eğlenmek

19. Kalp ve akciğerimiz vücudumuzun neresinde yer alır?

A) başımızda

B) karın boşluğunda

C) göğüs boşluğunda

20. Tren sürücüsüne ne denir?

A) pilot

B) makinist

C) hostes

21. Aşağıdakilerden hangisi kitle iletişim araçlarından değildir?

A) televizyon

B) radyo

C) mektup

22. Okulların açıldığı ilk hafta aşağıdakilerden hangisi kutlanır?

A) Kızılay Haftası

B) İlköğretim Haftası

C) Yeşilay Haftası

23. Aşağıdakilerden hangisi sınıfımızın araç-gereçlerinden değildir?

A) Atatürk Resmi

B) Mevsim Şeridi

C) Süpürge

9. Tanımadığınız birisi size çikolata hediye ettiğinde ne yapmalısınız?

A) Teşekkür etmelisiniz.

B) Siz de ona bir şey vermelisiniz.

C) Hemen Kaçmalısınız.

10. " Kulüp çalışmalarımızın birçok yararı vardır." Aşağıdakilerden hangisi bu faydalardan biri değildir?

A) Dayanışmayı artırır.

B) Yaratıcılık becerimiz gelişir.

C) Derslerden geri kalmamıza neden olur.

11. Aşağıdakilerden hangisi Atatürk 'ün eğitim gördüğü okullardan biridir?

A) Cumhuriyet Lisesi

B) Şemsi Efendi İlkokulu

C) İstiklal Mahalle Mektebi

12. Anneniz hastalandığında kendinizi aşağıdakilerden hangisi gibi hissedersiniz?

A) 😊

B) ☹️

C) 😏

13. Aşağıdakilerden hangisi bağımsızlık sembollerimizden değildir?

A) Marşımız

B) Bayrağımız

C) Takımımız

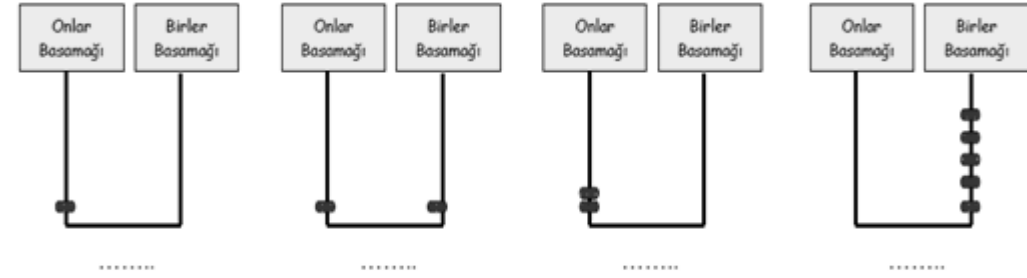
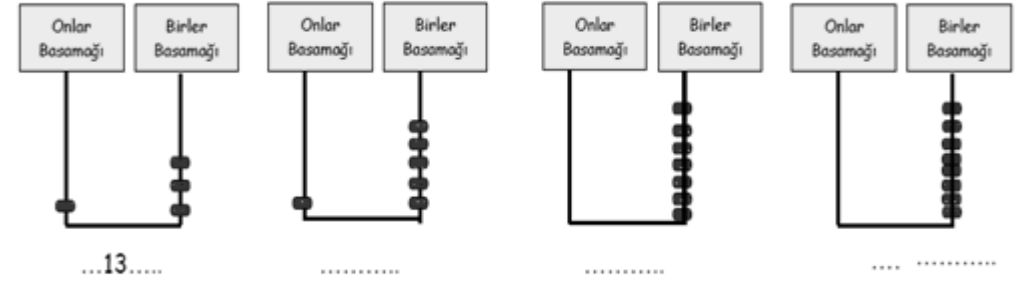
14. Hangisi bir oyun alanı değildir ?

A) Parklar

B) Okul bahçesi

C) Caddeler

11. Aşağıdaki işlemleri örnekteki gibi yapalım



12 . Aşağıdaki toplama işlemlerinde verilmeyenleri bulalım.

| | | | | |
|---|---|---|---|---|
| $\begin{array}{r} \square 7 \\ - 27 \\ \hline 6\square \end{array}$ | $\begin{array}{r} 7\square \\ - \square 4 \\ \hline 10 \end{array}$ | $\begin{array}{r} 4\square \\ - 16 \\ \hline \square 2 \end{array}$ | $\begin{array}{r} \square 3 \\ - 52 \\ \hline 3\square \end{array}$ | $\begin{array}{r} 37 \\ - 3\square \\ \hline \square 6 \end{array}$ |
| $\begin{array}{r} \square 7 \\ - 33 \\ \hline 5\square \end{array}$ | $\begin{array}{r} 27 \\ - 2\square \\ \hline \square 3 \end{array}$ | $\begin{array}{r} \square 3 \\ - 13 \\ \hline 4\square \end{array}$ | $\begin{array}{r} 9\square \\ - 93 \\ \hline \square 0 \end{array}$ | $\begin{array}{r} 64 \\ - \square 1 \\ \hline 2\square \end{array}$ |
| $\begin{array}{r} 6\square \\ - 61 \\ \hline \square 3 \end{array}$ | $\begin{array}{r} 36 \\ - 3\square \\ \hline \square 4 \end{array}$ | $\begin{array}{r} \square 9 \\ - 22 \\ \hline 3\square \end{array}$ | $\begin{array}{r} \square 3 \\ - 2\square \\ \hline 40 \end{array}$ | $\begin{array}{r} \square 2 \\ - 12 \\ \hline 4\square \end{array}$ |

13) Aşağıdaki doğal sayıları örnekteki gibi rakamla yazınız.

| Yazı ile | rakamla | Yazı ile | Rakamla |
|--------------|----------|-----------|---------|
| yirmi yedi | ...27... | elli bir | |
| kırk dokuz | | on bir | |
| doksan dokuz | | otuz altı | |

14) Aşağıdaki doğal sayıları örnekteki gibi yazı ile yazınız.

| | |
|---------------------|----------|
| 31 ...otuz bir..... | 95 |
| 88 | 44 |
| 68 | 40 |
| 50 | 70 |

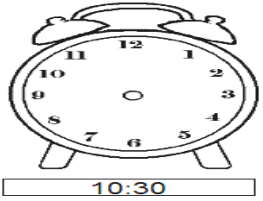
15) Aşağıdaki doğal sayılardan bir önceki ve bir sonraki sayıları yazınız.

| | | |
|-----------------|--------------|--------------|
| ..10...11 ..12. |37..... |82..... |
|45..... |86..... |20..... |
|68..... |20..... |28..... |
|7..... |41..... |96..... |
|62..... |39..... |29..... |

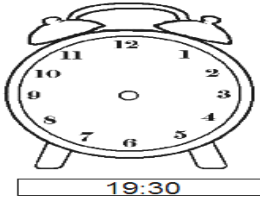
16)Aşağıdaki doğal sayıların arasında olan doğal sayıları yazınız.

| | | |
|---------------|---------------|---------------|
| 7- ..8 - 9 | 80..-.....-82 | 13..-.....-15 |
| 31..-.....-33 | 76 -.....-78 | 5-.....-7 |
| 56 -... -58 | 18-- 20 | 83-.....-85 |
| 28-.....-30 | 20-.....-22 | 59--61 |

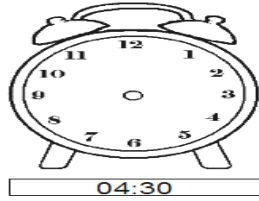
17) Aşağıdaki saatlerde akrep ve yelkovanı uygun yerlere koyalım.



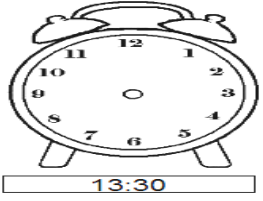
10:30



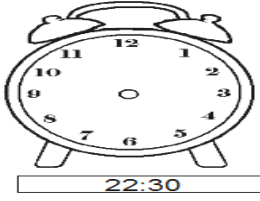
19:30




04:30



13:30



22:30



07:30

Hayat Bilgisi Değerlendirme Soruları

1. Aşağıdakilerden hangisini yaparken yardım almayız?

- A) Saçlarımızın kesilmesinde
B) Dişlerimizi fırçalanmasında
C) Banyomuzun yapılmasında

2.  Yanda konuşan çocuk sizce nasıl biridir?
A) Plansız B) Silgisiz C) Düzensiz

3. Dengeli ve düzenli olarak beslenen bir çocuk aşağıdakilerden hangisini yemez?

- A) Hamburger B) Meyve-Sebze C) Et

4. Milli marşımızın adı'dır. Yandaki boşluğa ne gelmelidir?

- A) Andımız B) İzmir Marşı C) İstiklâl Marşı

5. Aşağıdakilerden hangisi okulda çalışmaz?

- A) Müdür B) Öğrenci C) Öğretmen

6. Aşağıdakilerden hangisi toplu ulaşım araçlarından değildir?

- A) Motosiklet B) Tren C) Otobüs

7. Aşağıdakilerden hangisi milli bayramlarımızdandır?

- A) Ramazan Bayramı B) Zafer Bayramı
C) Cadılar Bayramı

8. Aşağıdakilerden hangisinin işi direk insanla ilgilidir?

- A) Çiftçi B) Doktor C) Balıkçı

ARA-BUL BOYA

| | | | | | | | | | | | |
|---|---|---|---|---|---|---|---|---|---|---|---|
| B | K | S | A | S | I | V | A | C | I | X | K |
| E | A | H | V | M | A | N | A | V | P | K | A |
| R | S | N | U | Y | D | O | K | T | O | R | P |
| B | A | F | K | P | İ | L | O | T | L | E | İ |
| E | P | G | A | A | Ş | Ç | İ | T | İ | B | C |
| R | S | A | T | İ | C | İ | X | Y | S | E | İ |
| N | T | E | R | Z | İ | İ | Ş | O | F | Ö | R |
| Ö | Ğ | R | E | T | M | E | N | N | J | Z | X |

Mesleklerimiz aşağıda. Haydi, bulup, boyayalım.

öğretmen doktor sıvacı berber
terzi şoför pilot polis
bankacı aşçı dişçi avukat
kasap kapıcı satıcı ebe manav



18) Aşağıdaki boşlukları "büyüktür" , "küçüktür" ve "eşittir" ifadelerinden uygun olanları yazınız.

| | |
|-------------------------|------------------------|
| 11 ... küçüktür22 | 84... büyüktür28 |
| 30..... 40 | 21... küçüktür36 |
| 75.....96 | 65.....27 |
| 10..... eşittir10 | 97.....42 |
| 81..... ..72 | 82.....91 |
| 29..... ..13 | 83.....94 |

19) Aşağıdaki doğal sayıların karşısına tek sayı veya çift sayıdan uygun olanı yazınız.

| | | |
|-------------------|----------|----------|
| 4 ...çift sayı... | 25..... | 50..... |
| 37..... | 9 | 49..... |
| 98 | 42..... | 0 |
| 77 | 29 | 90 |

20) Aşağıdaki doğal sayıların hangi onluğa daha yakın olduğu işaretleyiniz.

| | | | | |
|----|----|----|----|----|
| 51 | 50 | 47 | 24 | 13 |
| 60 | | | | |
| 67 | | 82 | 18 | 30 |
| | | | | |
| 71 | | 96 | 43 | 51 |
| | | | | |

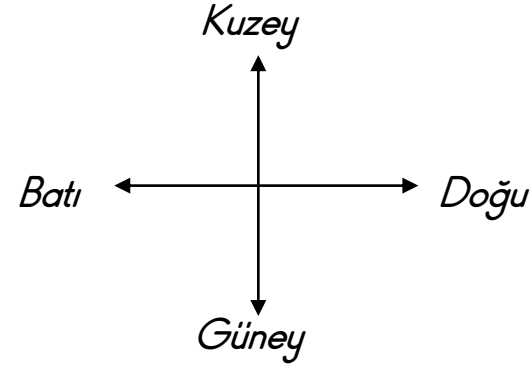
21) Aşağıdaki toplama işlemlerini yapınız.

| | | | | |
|---|---|---|---|---|
| $\begin{array}{r} 66 \\ + 18 \\ \hline \end{array}$ | $\begin{array}{r} 37 \\ + 21 \\ \hline \end{array}$ | $\begin{array}{r} 68 \\ + 28 \\ \hline \end{array}$ | $\begin{array}{r} 68 \\ + 14 \\ \hline \end{array}$ | $\begin{array}{r} 27 \\ + 26 \\ \hline \end{array}$ |
| $\begin{array}{r} 72 \\ + 25 \\ \hline \end{array}$ | $\begin{array}{r} 60 \\ + 20 \\ \hline \end{array}$ | $\begin{array}{r} 29 \\ + 15 \\ \hline \end{array}$ | $\begin{array}{r} 12 \\ + 65 \\ \hline \end{array}$ | $\begin{array}{r} 51 \\ + 29 \\ \hline \end{array}$ |
| $\begin{array}{r} 62 \\ + 33 \\ \hline \end{array}$ | $\begin{array}{r} 11 \\ + 29 \\ \hline \end{array}$ | $\begin{array}{r} 52 \\ + 39 \\ \hline \end{array}$ | $\begin{array}{r} 29 \\ + 47 \\ \hline \end{array}$ | $\begin{array}{r} 67 \\ + 11 \\ \hline \end{array}$ |
| $\begin{array}{r} 80 \\ + 19 \\ \hline \end{array}$ | $\begin{array}{r} 24 \\ + 35 \\ \hline \end{array}$ | $\begin{array}{r} 26 \\ + 33 \\ \hline \end{array}$ | $\begin{array}{r} 22 \\ + 15 \\ \hline \end{array}$ | $\begin{array}{r} 47 \\ + 14 \\ \hline \end{array}$ |
| $\begin{array}{r} 56 \\ + 17 \\ \hline \end{array}$ | $\begin{array}{r} 23 \\ + 45 \\ \hline \end{array}$ | $\begin{array}{r} 11 \\ + 67 \\ \hline \end{array}$ | $\begin{array}{r} 38 \\ + 37 \\ \hline \end{array}$ | $\begin{array}{r} 35 \\ + 21 \\ \hline \end{array}$ |





22) Aşağıdaki çıkarma işlemlerini yapınız.

| | | | | |
|---|---|---|---|---|
| $\begin{array}{r} 96 \\ - 47 \\ \hline \end{array}$ | $\begin{array}{r} 30 \\ - 29 \\ \hline \end{array}$ | $\begin{array}{r} 72 \\ - 35 \\ \hline \end{array}$ | $\begin{array}{r} 74 \\ - 35 \\ \hline \end{array}$ | $\begin{array}{r} 51 \\ - 35 \\ \hline \end{array}$ |
| $\begin{array}{r} 72 \\ - 59 \\ \hline \end{array}$ | $\begin{array}{r} 32 \\ - 29 \\ \hline \end{array}$ | $\begin{array}{r} 31 \\ - 27 \\ \hline \end{array}$ | $\begin{array}{r} 84 \\ - 68 \\ \hline \end{array}$ | $\begin{array}{r} 34 \\ - 29 \\ \hline \end{array}$ |
| $\begin{array}{r} 73 \\ - 44 \\ \hline \end{array}$ | $\begin{array}{r} 74 \\ - 49 \\ \hline \end{array}$ | $\begin{array}{r} 32 \\ - 16 \\ \hline \end{array}$ | $\begin{array}{r} 54 \\ - 39 \\ \hline \end{array}$ | $\begin{array}{r} 30 \\ - 19 \\ \hline \end{array}$ |
| $\begin{array}{r} 83 \\ - 36 \\ \hline \end{array}$ | $\begin{array}{r} 90 \\ - 46 \\ \hline \end{array}$ | $\begin{array}{r} 74 \\ - 26 \\ \hline \end{array}$ | $\begin{array}{r} 71 \\ - 53 \\ \hline \end{array}$ | $\begin{array}{r} 30 \\ - 16 \\ \hline \end{array}$ |
| $\begin{array}{r} 32 \\ - 24 \\ \hline \end{array}$ | $\begin{array}{r} 51 \\ - 43 \\ \hline \end{array}$ | $\begin{array}{r} 48 \\ - 19 \\ \hline \end{array}$ | $\begin{array}{r} 31 \\ - 19 \\ \hline \end{array}$ | $\begin{array}{r} 82 \\ - 65 \\ \hline \end{array}$ |

❖ Aşağıdaki tümceleri tamamlarken şemadan yararlanınız.



- Yüzümüzü doğuya döndüğümüzde arkamız dır.
- Yüzümüzü güneye döndüğümüzde arkamız dir.
- Yüzümüzü doğuya döndüğümüzde sağ kolumuz gösterir.
- Sağ kolumuz doğuyu gösterdiğinde sol kolumuz gösterir.
- Yüzümüzü güneye döndüğümüzde sağ kolumuz gösterir.
- Yüzümüzü kuzeye döndüğümüzde sol kolumuz gösterir.
- Sol kolumuz kuzeyi gösterdiğinde arkamız gösterir.



ETKİNLİK SAYFASI

❖ Aşağıdaki tümcelerde eksik bırakılan yerleri tablodaki sözcüklerle tamamlayınız.

pusula - doğu - belirlenir - batı - Kutup - doğu, batı, güney, kuzey

- Ana yönler,
..... ve dir.
- Güneş'in doğduğu yöne denir.
- Yön bulmak için kullanılan araca denir.
- Yön Güneş'in doğuşuna ve batışına göre
- Güneş'in battığı yöne denir.



ATATÜRK

- Aşağıdaki tümcelerden doğru olanların başına D, yanlış olanların başına Y harfi koyunuz.

- () Mustafa Kemal İstanbul'da doğdu.
- () Mustafa Kemal 1881 yılında doğdu.
- () Babasının adı Ali Rıza Bey, annesinin adı Zübeyde Hanımdır.
- () Mustafa'ya Kemal adını arkadaşları verdi.
- () Mustafa önce Şemsi Efendi İlkokuluna gitti.

23) Aşağıdaki ileriye doğru ritmik saymaları tamamlayalım.

➤ 2 - 4 - □ - 8 - 10 - □ - 14 - □ - 18 - □ - 22 - 24 -
□ - 28 - 30 - □ - 34 - 36 - □ - 40 - 42 - □ - 46 -
48 - □ - 52 - 54 - □ - 58 - 60 - □ - 64 - 66 - □ -
□ - 72 - □ - 76 - 78 - 80 - □ - 84 - □ - 88 - 90 -
92 - □ - 96 - 98 - □

➤ 3 - □ - 9 - 12 - □ - 18 - □ - 24 - □ - 30

➤ □ - 8 - 12 - □ - 20 - 24 - □ - 32 - □ - □

➤ 5 - □ - □ - 20 - □ - 30 - 35 - □ - 45 - □
□ - 60 - □ - 70 - 75 - □ - □ - 90 - □ - 100

24) Aşağıdaki geriye doğru ritmik saymaları tamamlayalım.

➤ 40 - □ - 32 - 28 - □ - 20 - □ - 12 - 8 - □ - 0

➤ □ - 27 - 24 - □ - 18 - 15 - □ - □ - 6 - □ - 0

➤ 100 - 95 - □ - 85 - 80 - □ - 70 - □ - 60 - □ -
50 - □ - 40 - 35 - □ - 25 - 20 - □ - 10 - 5 - □

➤ 100 - 98 - □ - □ - 92 - 90 - □ - 86 - □ - 82 -
□ - 78 - □ - 74 - 72 - □ - 68 - 66 - □ - 62 - □ -
58 - □ - 54 - 52 - □ - 48 - 46 - □ - 42 - 40 -
□ - 36 - 34 - □ - 30 - 28 - □ - 24 - 22 - □ - 18
- 16 - □ - 12 - □ - 8 - 6 - □ - 2 - □

25) Aşağıdaki çarpma işlemlerini yapınız.

| | | | | | |
|------|------|-------|------|------|------|
| 4X1= | 2X5= | 4X9= | 3X4= | 5X3= | 4X8= |
| 4X9= | 4X6= | 4X10= | 4X2= | 5X4= | 5X7= |
| 5X4= | 3X1= | 5X6= | 4X2= | 2X6= | 5X2= |
| 4X6= | 4X7= | 4X7= | 5X2= | 2X8= | 3X9= |
| 4X2= | 3X7= | 2X9= | 5X9= | 5X7= | 4X8= |
| 3X8= | 5X6= | 3X8= | 5X5= | 3X9= | 2X6= |
| 2X1= | 3X1= | 4X2= | 5X4= | 3X9= | 5X1= |

26) Aşağıdaki problemleri yapalım.

1) Vazonun içinde 20 çiçek vardı. 13 tanesi kuruduğuna göre kaç tanesi kurumamıştır?

2) 15 sayfalık defterin 6 sayfasını kullandım. Kullanmadığım kaç sayfa defterim kaldı?

3) Kitabımda 16 tane problem vardı. 12 tanesini çözdüm. Çözmediğim kaç problem kaldı?

1) Ömer tatilde 34, Büşra ise 45 öykü kitabı okumuş. İkisinin okuduğu öykülerin toplamı kaçtır?

2) 58 sayısının 19 fazlası kaçtır?

3) Mehmet birinci gün 34, ikinci gün 30 ve üçüncü gün 15 sayfa kitap okudu. Mehmet üç günde kaç sayfa kitap okudu?

BİLMECELER

Cevapları bilmecelerin altındaki noktalı yerlere yaz.

Ufacık mermer taşı
İçinde beyler aş
Pişirirsen aş olur
Pişirmezsene kuş olur
(.....)

Bağa gittim
Bir kuş tuttum
Etini yedim
Kemiğini attım
(.....)

Yaştır kurutamazsın
Tuzunu bulamazsın
Çiçeklerden toplanır
Tadına doyamazsın
(.....)

Bilmece bildirmece
El üstünde kaydırmaca
(.....)

Biz biz idik
Otuz iki kız idik
Ezildik büzüldük
İki duvara dizildik
(.....)



HAYAT BİLGİSİ

BİL, BUL, EĞLEN

| | | | | | | | | | | | |
|---|---|---|---|---|---|---|---|---|---|---|---|
| I | N | K | R | Y | A | N | G | I | N | S | V |
| Y | Ö | B | I | S | E | D | Y | E | A | E | H |
| A | F | E | T | Z | G | Ş | U | Ç | Ş | L | E |
| Ğ | Y | A | R | D | I | M | P | I | E | R | Y |
| M | F | Y | A | R | A | L | I | Ğ | V | K | E |
| U | O | Ç | A | D | I | R | A | K | İ | A | L |
| R | D | E | P | R | E | M | U | Y | P | R | A |
| B | S | U | B | A | S | K | I | N | I | E | N |

Kızılây yağmur aşevi
 Deprem Kan yanalı sel yangın
 sedye çığ yardım
 afet su baskını heyelan çadır



4)Marketten 14 yumurta aldım. Gelirken 4 tanesi kırıldı. Kaç tane sağlam yumurta kalmıştır?

5) Bahçemizdeki ağaca 18 kuş kondu. Kuşlardan 9 tanesi uçtu. Uçmayan kaç kuş kaldı?

6)Sınıfımıza 20 tebeşir getirdik. Bu tebeşirlerin 11 tanesini kullandık. Kullanmadığımız kaç tebeşir kaldı?

7)Pazardan aldığım 24 mandalınanın 16 tanesini yedik. Yenilmeyen kaç manda-lina kaldı?

8) Tuğçe'nin 35 öykü kitabı vardı. 9 tanesini okudu. Okumadığı kaç kitabı kaldı?

4) Bir ahırda 26 keçi, 37 tane de koyun vardır. Bu ahırda toplam kaç hayvan vardır?

5) Sınıf kitaplığımızda 45 kitap vardı. Okul müdürü 24 kitap hediye etti. Şimdi kaç kitabımız oldu?

6) Annem 61 kilodur. Ben 25 kiloyum. İkimizin kilolarının toplamı kaçtır?

7) Ayşe 32 kilo, Nihat 25 kilo, ben ise 41 kiloyum. Üçümüzün kilolarının toplamı kaçtır?

8) Murat'ın yaşı 18'dir.Baba-sının yaşı da 48'dir. Murat'ın ve babasının yaşları toplamı kaçtır?

TÜRKÇE

Alfabemiz

A B C Ç D E F G Ğ H I İ J K L M N O Ö P R S Ş T U Ü V Y Z

➔ Alfabemiz de (abecemizde) harf sırasına göre; aşağıda yan yana yazılan iki harften hangisinin önce geldiğini yuvarlak içine alarak işaretleyiniz.

B - C P - T Y - Ş F - M U - V
D - F Z - Y B - F H - E M - T
U - N G - A K - N J - T

1)Aşağıdaki sözcüklerde bulunan ünlü ve ünsüzleri yazalım.

| | | | |
|---------|-------------------|--------------|--|
| reçel < | e, e (ünlü) | varil < | |
| | r, ç, l (ünsüz) | | |
| zenci < | | üzüntü < | |
| | | | |
| akrep < | | Nesrin < | |
| | | | |
| aymaz < | | kürkçü < | |
| | | | |
| konut < | | kızarıklık < | |
| | | | |

2)Aşağıdaki kelimelerin kaç harften oluştuğunu yazınız.

kızak ➔ 5 harf erzak ➔ menekşe ➔
vişneli ➔ kırıntı ➔ çamaşır ➔
üzülmek ➔ öğretmen ➔ aydınlık ➔
kepçe ➔ domates ➔ kürk ➔

BULMACA ÇÖZELİM

Aşağıdaki bulmacanın içinde verilen sözcüklerin zıt (karşıt) anlamlıları gizlidir. Lütfen önce bu sözcüklerin karşıt anlamlarını bulup karşılarına yazar mısınız?

| | | | | | | | | | | | | |
|---|---|---|---|---|---|---|---|---|---|---|---|---|
| Y | T | E | M | B | E | L | K | Z | A | Ş | H | İ |
| B | A | İ | Ü | T | Ö | K | O | E | E | I | A | Z |
| E | Ş | K | N | K | M | B | L | N | C | L | F | E |
| Y | A | L | I | E | Ü | J | A | G | N | N | İ | C |
| A | I | S | Ç | N | Y | Ç | Y | İ | İ | A | F | E |
| Z | A | N | S | A | Ş | K | Ü | N | F | Y | K | G |
| İ | E | T | K | O | C | O | O | K | I | Z | İ | Ş |
| G | İ | T | A | I | Ğ | E | B | T | Y | İ | L | I |
| L | D | U | R | Y | Ş | U | M | K | A | M | İ | R |
| D | E | L | İ | R | A | D | K | İ | Z | E | Y | A |
| K | A | P | A | L | I | B | D | O | S | T | İ | B |
| Y | A | Z | N | İ | K | R | İ | Ç | K | L | A | K |
| H | A | T | I | R | L | A | M | A | K | T | U | T |

| | | |
|----------------|-----------------|--------------------------|
| at : | iyi : | otur : |
| yaz : | dolu : | gel : |
| yap : | zor : | akıllı : |
| usta : | geç : | ağır : |
| düşman : | unutmak : | çalışkan : <i>tembel</i> |
| gündüz : | kötülük : | şişman : |
| ver : | kalın : | ağır : |
| açık : | eski : | kirli : |
| taze : | çok : | fakir : |
| sıcak : | uzun : | savaş : |
| geniş : | büyük : | yaşlı : |
| güzel : | siyah : | doğru : |
| uzak : | aç : | |

5) "Perdelikler" sözcüğünün doğru hecelenişi aşağıdakilerden hangisidir?

A) Per-delik-ler B) Per-del-ik-ler C) Pe -de- lik - ler

6) " Sena oldukça şen bir çocuk ." tümcesindeki sözcüklerden " şen " in eş anlamlısı aşağıdakilerden hangisidir?

A) neşeli B) Şakacı C) Kederli

7) " Leyla babasının kız kardeşinedenileceğini bilir. " tümcesini hangi sözcükle tamamlayabiliriz?

A) Teyze B) Hala C) Yenge

Aşağıdaki cümlelerdeki yazım yanlışlarını bulalım ve cümleyi tekrar doğru bir şekilde yazalım.

✓ akşam üzeri çok Fena yağmur yağdı.

Akşam üzeri çok fena yağmur yağdı.

✓ Hafta sonu ahmet, ali ve ben gezmeye gitik.

.....

✓ Meyvelerden En Çok elmayı Severim.

.....

✓ kurallar, bizlerin daha Rahat yaşaması için vardır.

.....

✓ Antalyadan gelen Misafirler iki Gün daha kalacaklar.

.....

✓ demet ile derya pikniğe Gittiler.

.....

✓ daha sonra kurtuluş savaşı' nı başlattık.

.....19

3)Aşağıdaki kelimeleri alfabetik sıraya göre yerleştirilim.

✓ anne – davul – oyuncak – bebek – tilki

.....

✓ öğretmen – müdür – hizmetli – okul – sınıf

.....

✓ futbol – kale – Galatasaray – şampiyon – lider

.....

✓ kalem – defter – silgi – çanta – ataç

.....

✓ zürafa – sincap – fil – maymun – kanguru

.....

✓ dayı – amca – teyze – enişte – hala

.....

4)Aşağıdaki kelimelerin zıt anlamlılarını karşılarına yazınız.

| | | | |
|--------|----------------|--------|--|
| açılış | <i>kapanış</i> | pahalı | |
| tok | | dolu | |
| sıvı | | zengin | |
| evet | | tatlı | |
| şişman | | güney | |
| gider | | kısa | |
| zayıf | | sağlam | |
| nazik | | cesur | |
| tavan | | gündüz | |
| yer | | yakın | |

5) CÜMLE OLUŞTURALIM

→ Aşağıda karışık halde verilen kelimelerden cümle oluşturup altına yazalım. Sonuna uygun noktalama işaretini koyalım

✓ elimi / Eyvah / kestim

✓ beğendim / Saatini / çok

✓ gidiyorsun / Bu / nereye / halde

✓ yapmış / ile / Yaşlı / kuklayı / ne/ adam

✓ hızlı / taksiyi / Loför / sürüyordu / oldukça

✓ kapatmayı / televizyonu / Yatarken / unutma

✓ çıkmalıyız / erkenden / yola / Yarın

6) Aşağıdaki tekil adları çoğul yapınız.

düğme → düğmeler....

köpek →

yaprak →

kaşık →

şarkı →

yıldız →

elma →

kapı →

yol →

bayrak →

taş →

tavuk →

İTFAİYECİ

İpim baltam belimde
Uzun kancam elimde,
Borazanım dilinde
İtfaiyeciyim ben.

Sarsa yangın bu evi
Görürüm ben o devi ,
Söndürürüm alevi,
İtfaiyeciyim ben.

Merdivene çıkarım
Hortumla su sıkarım
Yanan yeri yıkarım,
İtfaiyeciyim ben.

(Aşağıdaki 1. 2. 3. ve 4. soruları, şiire göre cevaplandırınız.)

1. İtfaiyecinin ipi ve baltası neredeymiş?

A) dilinde B) elinde C) belinde

2. İtfaiyeci, yangını (2. dörtlükte) neye benzetiyor?


A) deve B) timsaha C) yılan

3. İtfaiyeci 3. dörtlükte yanan yeri ne yaptığını söylüyor ?

A) Söndüremediğini B) Yıktığını
C) Bir şey yapamadığını

4. Şiirin başlığı nedir?

A)İtfaiyeci B) Yangın Haftası C) Yangın



BİLGİ: Cins Ad: Aynı türden birden fazla olan varlığa verilen adlara özel ad (isim) denir. Cins isimlerin baş harfi küçük yazılır.

15) Aşağıdaki isimlerden cins (tür) isim olanları (X) ile işaretleyiniz.

| | | |
|--------------|----------------|---------------|
| park ...X... | cadde | Akdeniz |
| Kemal..... | İstanbul | kanarya..... |
| Tekir | okul | sıra |
| cetvel..... | ağaç | kalem..... |
| Mine | serçe | üzüm..... |
| masa | Türkiye | Ayşe |

16) Aşağıdaki isimlerden tekil isim olanları (X) ile işaretleyiniz.

| | | |
|-------------------|--------------|----------------|
| balon ... X | toplar..... | ekmekler |
| çocuk | tebeşir..... | kitap |
| papatya | kuşlar..... | öğretmen |
| silgiler | çanta | evler |

17) Aşağıdaki isimlerden çoğul isim olanları (X) ile işaretleyiniz.

| | | |
|--------------------|------------------|----------------|
| kuzular..... X ... | kağıt | hayvanlar..... |
| köy | şişeler | keci |
| sokaklar..... | sınıf | taşıtlar..... |
| öğrenciler..... | pencereler | |

7) Aşağıdaki kelimelerin eş anlamlılarını karşılarına yazınız.

| | | | |
|--------|------|----------|--|
| uyarı | ikaz | kirli | |
| beyaz | | kolay | |
| sürat | | nefes | |
| millet | | öğretmen | |
| vatan | | güç | |
| siyah | | hadise | |
| ilave | | hatıra | |

8) Aşağıdaki kelimeleri hecelerine ayırınız.

| | |
|--------------------------------|---------------------|
| bakıcımız → ba - kı - cı - mız | ailemiz → |
| öğretmen → | çalışırız → |
| sınıfta → | kardeşlerim → |
| çocuklar → | tren → |
| spor → | gözlükçü → |
| misafirperver → | yolluksuz → |

9) Aşağıdaki cümleleri kelime ve hecelerine ayırınız.

a) Tatilde | iyi | dinlenmeli | derslerimizi | de | ihmal | etmemeliyiz. |
Ta - til - de i - yi din - len - me - li ders - le - ri - mi - zi de ih - mal et - me - me - li - yiz.

b) Şoför arabayı çok hızlı sürdüğü için kazaya neden olmuştu.

.....
.....

c) Ormanlar kralı aslan kendine gülen kurbağaya acıyarak baktı.

.....
.....

10) NOKTALAMA İŞARETLERİ

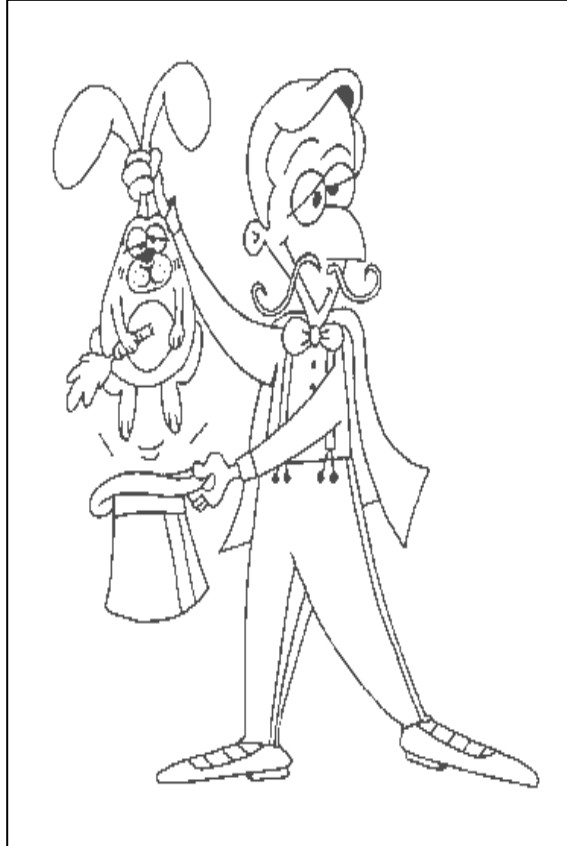
→ Aşağıdaki metinde “()” şeklinde boş bırakılan yerlere uygun olan noktalama işaretini koyalım.

Serçe İle Kırlangıç

Kırlangıcın düşünceli bir hali vardı()Serçe sordu()
()Ne düşünüyorsun güzel kuşum()Bir derdin mi var()
() Yaz bitti () sonbahar geldi () Yakında kış
gelecek () kar yağacak () soğuklar başlayacak () O
zaman ne yapacağız ()

11)Aşağıdaki cümlelerin sonuna uygun noktalama işaretini koyunuz.

Ayl() elim çok acıdı()
Bugün güzel okudum()
Atatürk kimdir()
Güzel güzel okuyordum()
Çevremizi temiz tutmalıyız()
Bamya yemeğini severim()
Akşam bize gel()
Emre koşa koşa eve gelmiş()
Ödevini yaptın mı()
Buraya gelecekler mi ()
Eyvah() kalbim kızılı atıyor()
Hangi filmi izledin()
Sen de gidecek misin()
Yarın yağmur yağacakmış()
Ne okuduğunu bilmiyorum()



12) Aşağıdaki özel isimlerde (‘) kesme işaretini gelmesi gereken yere koyalım.

Hakana →→→ Hakan’a

Yelizin →→→

Cemale →→→

Atatürke →→→

Ankaradan →→→

Türkiyeden→→→

Suattan →→→

Hakkariden→→→

Şevkete→→→

Hüseyine→→→

Diyarbakırın →→→

Karabaşın →→→

13) Aşağıdaki tümcelerde kaç tane kelime olduğunu sayıp, karşılıklarına yazınız.

Ayla, kitap okumayı çok sever. (.. 5..)

Nereye gittin? ()

Sorunlar karşısında yılmazdı. (.....)

Bu yıl çok çalışacağına söz verdi. (.....)

Her zaman çalışmalıyız. ()

Bize gel.(.....)

BİLGİ: Özel Ad: Bir tek varlığa ait olan adlara özel ad (isim) denir.Özel isimlerin baş harfi büyük yazılır.

14) Aşağıdaki adlardan özel ad (isim) olanları (X) ile işaretleyiniz.

park Bursa ...X..... Emel

Ankara..... cadde Akdeniz

Kemal..... köpek İstanbul

kanarya..... Tekir okul